

Základní škola praktická Halenkov

VY_32_INOVACE_02_03_19

MA/počítání do 10



INVESTICE DO ROZVOJE VZDĚLÁVÁNÍ

Číslo projektu	CZ.1.07/1.4.00/21.3185, Moderní škola
Klíčová aktivita	III/2 Vzdělávání pedagogických pracovníků pro oblast digitálních technologií
Zařazení učiva v rámci ŠVP	1. ročník ZŠS
Ověřeno	10.6.2013/ zapsáno do TK/
Název DUMu	Počítání do čísla 10.
Anotace	Pracovní list se týká výuky psaní, čtení a počítání. Děti si procvičí počítání do 10.
Autor	Mgr. Olga Tomková
Očekávaný výstup	Naučení a procvičení daného tématu.
Druh učebního materiálu	Pracovní list.
Použitý zdroj: Viz. poslední strana	

Počítání do 10

 Vypočítej příklady :

$4 + 6 =$

$1 + 2 =$

$3 + 4 =$

$1 + 5 =$

$1 + 9 =$

$4 + 5 =$

$2 + 1 =$

$3 + 6 =$

$1 + 4 =$

$1 + 6 =$

$2 + 8 =$

$2 + 3 =$

$2 + 7 =$

$3 + 1 =$

$5 + 4 =$

$4 + 2 =$

$1 + 1 =$

$3 + 3 =$

$2 + 5 =$

$9 + 1 =$

$3 + 4 =$

$8 + 1 =$

$1 + 7 =$

$3 + 7 =$

$5 + 3 =$

$4 + 4 =$

$5 + 1 =$

$2 + 4 =$

 Vypočítej příklady :

$10 - 6 =$

$7 - 5 =$

$5 - 4 =$

$9 - 1 =$

$7 - 2 =$

$5 - 1 =$

$10 - 1 =$

$9 - 7 =$

$7 - 4 =$

$6 - 3 =$

$2 - 1 =$

$8 - 5 =$

$6 - 2 =$

$9 - 5 =$

$5 - 3 =$

$9 - 3 =$

$4 - 3 =$

$8 - 3 =$

$7 - 3 =$

$10 - 5 =$

$9 - 4 =$

$8 - 6 =$

$8 - 2 =$

$7 - 1 =$

$4 - 1 =$

$10 - 9 =$

$5 - 2 =$

$10 - 3 =$

$9 - 2 =$

$6 - 1 =$

3  Porovnej a dopiš znaky větší >, menší < nebo rovná se =

$10 \square 9$

$4 \square 5$

$2 \square 3$

$5 \square 6$

$8 \square 9$

$6 \square 9$

$7 \square 10$

$1 \square 10$

$4 \square 4$

$10 \square 4$

$10 \square 8$

$7 \square 7$

$9 \square 1$

$10 \square 10$

$9 \square 5$

$7 \square 2$

$8 \square 3$

$2 \square 10$

$9 \square 4$

$7 \square 8$

$10 \square 6$

$2 \square 3$

$8 \square 8$







$5 \square 7$

$5 \square 10$

$3 \square 3$

$7 \square 6$

4 Dopiš rozklady čísel podle znázornění:



5 Dopiš rozklady :

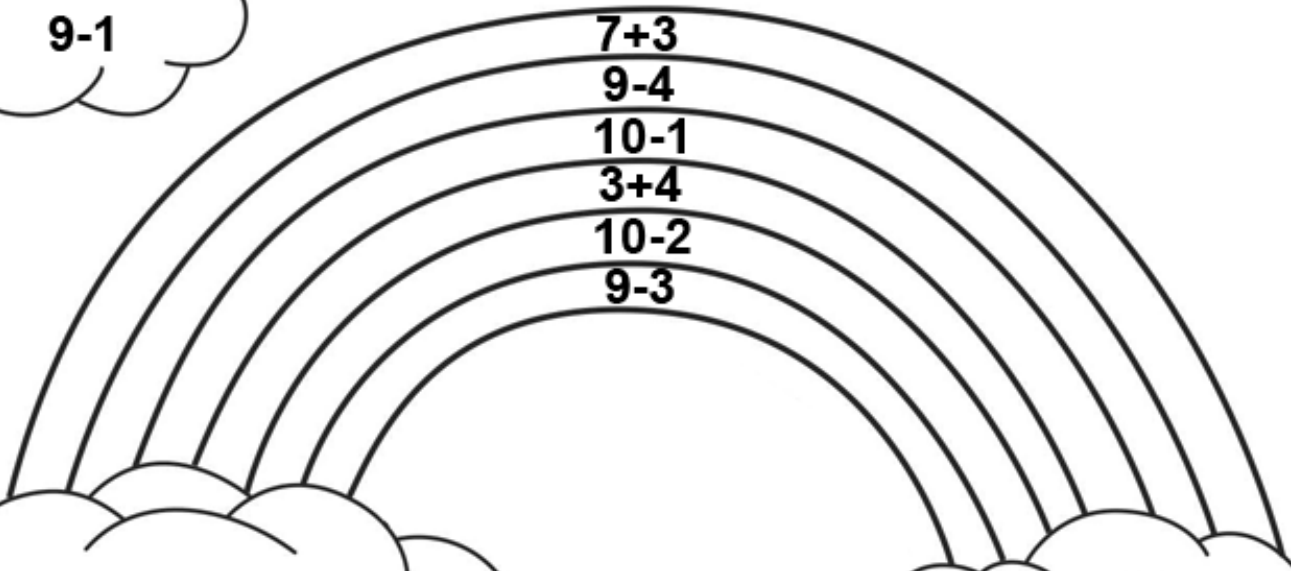

7	
2	
6	
	4
1	
	5

10	
	8
9	
4	
2	
	1
	3
5	
	6





9	
1	
	2
	5
4	
	7
3	
	8


8	
7	
	4
	1
5	
	2
6	


6 Vybarvi obrázek správnou barvou :



7 Napiš příklad a vypočítej :



8 Pepa natrhal ze stromu 10 .

2  dal sestře.

Znázorni :

Kolik  mu zbylo ?

Poté potkal ještě bratra a tomu dal 3 .

Znázorni :

Kolik  mu ještě zbylo ? _____

Eliška šla k babičce. Po cestě našla 6 .

Když šla zpátky domů, našla další 4 .

Kolik hub má celkem ? _____

Znázorni :

Doma dala 9  mamince.

Kolik  si nechala ? _____

Znázorni :

9 Zakroužkuj ta čísla, která patří za znaménko :

10 >	1	2	3	4	5	6	7	8	9	10
10 <	1	2	3	4	5	6	7	8	9	10
7 =	1	2	3	4	5	6	7	8	9	10

10 Doplň správná čísla :

2	+	6	= 8		+		= 9		+		= 10
	+		= 8		+		= 9		+		= 10
	+		= 8		+		= 9		+		= 10
	+		= 8		+		= 9		+		= 10
	+		= 8		+		= 9		+		= 10

11 Spočítej a spoj s výsledkem :

5+5=	10-2=	6+4=	5+1=
-------------	--------------	-------------	-------------

10

8

6

3+7=	1+9=	9-3=	10-4=
-------------	-------------	-------------	--------------

1+7=	7-1=	8-2=	4+4=
-------------	-------------	-------------	-------------

12 Anička počítala úkol. Udělala zde ale chyby, najdi je a oprav:

$10 - 7 = 3$

$9 - 1 = 8$

$6 - 2 = 4$

$9 - 3 = 4$

$10 - 3 = 7$

$5 - 2 = 2$

$10 - 3 = 6$

$9 - 3 = 5$

$7 - 3 = 4$

$7 - 4 = 3$

$7 - 1 = 5$

$9 - 8 = 1$

$10 - 6 = 4$

$6 - 5 = 1$

$8 - 4 = 3$

$9 - 6 = 3$

$3 - 2 = 1$

$6 - 2 = 5$

13 Dopiš správně :

<input type="text"/>	+	5	= 10
<input type="text"/>	+	2	= 10
<input type="text"/>	+	7	= 10
<input type="text"/>	+	9	= 10
<input type="text"/>	+	4	= 10
<input type="text"/>	+	6	= 10
<input type="text"/>	+	1	= 10

3	+	<input type="text"/>	= 10
4	+	<input type="text"/>	= 10
1	+	<input type="text"/>	= 10
5	+	<input type="text"/>	= 10
8	+	<input type="text"/>	= 10
2	+	<input type="text"/>	= 10
9	+	<input type="text"/>	= 10

K úkolu č. 6

Omalovánka - http://www.kids-fun-and-games.com/images/rainbow_coloring_pages.gif

K úkolu č. 7

medvěd - <http://schools.graniteschools.org/edtech-canderson/files/2013/01/cartoon-bear-pictures.jpg>

beruška - <http://knkzingreview.com/wp-content/uploads/2012/11/ladybug-cartoon-knkzingreview.png>

ovce -

<http://www.iconwallstickers.co.uk/media/catalog/product/cache/5/thumbnail/9df78eab33525d08d6e5fb8d27136e95/W/S/WS-19367.jpg>

kočka - http://sweetclipart.com/multisite/sweetclipart/files/orange_cat_simple.png

vlk - http://www.drawingcoach.com/image-files/cartoon_wolf_st5.gif

K úkolu č. 8

hruška - http://www.hasslefreeclipart.com/clipart_food/fruit/pear2.gif

hřib - thumb7.shutterstock.com/thumb_small/498883/498883,1280723213,8/stock-vector-cartoon-champignon-58258558.jpg