

Základní škola praktická Halenkov

VY_32_INOVACE_01_02_05
MATEMATIKA - I. A II. OBDOBÍ ŠVP PRO ŽÁKY
SE STŘEDNĚ TĚŽKÝM MENTÁLNÍM
POSTIŽENÍM



EVROPSKÁ UNIE



MINISTERSTVO ŠKOLSTVÍ,
MLÁDEŽE A TĚLOVÝCHOVY



OP Vzdělávání
pro konkurenceschopnost

INVESTICE DO ROZVOJE VZDĚLÁVÁNÍ

Číslo projektu	CZ.1.07/1.4.00/21.3185
Klíčová aktivita	III/2 Inovace a zkvalitnění výuky prostřednictvím ICT
Zařazení učiva v rámci ŠVP	Matematika – I. a II. období ŠVP pro žáky se středně těžkým mentálním postižením
Ověřeno	
Název DUMU	Počítání v oboru do 3
Anotace	Čtení a psaní číslic 1, 2, 3, numerace do 3, určování počtu prvků ve skupinách, čtení a psaní znamének +, -, =, sčítání a odčítání v oboru do 3, geometrické tvary
Autor	Mgr. Jana Hrňová
Očekávaný výstup	Upevnění matematických schopností v oboru do 3 a poznávání geometrických tvarů
Druh učebního materiálu	Pracovní list
Použitý zdroj	<p>Náměty čerpány z : J. Molnár, H. Mikulenková: Matematika pro 1. ročník základních škol, nakladatelství Prodos</p> <p>Obrazový materiál:</p> <p>https://www.google.cz/search?q=kliparty+zdarma&hl=cs&client=firefox-a&hs=Vi&tbo=u&rls=org.mozilla:en-US:official&tbm=isch&source=univ&sa=X&ei=8NdrUPznBs7GtAbCh4CwCw&ved=0CDMQsAQ&biw=1024&bih=578</p> <p>http://obrazky.superia.cz/</p> <p>http://www.canstockphoto.cz/vektor-klipart/%C5%BE%C3%A1ba.html</p> <p>http://xn--omalovnyky-51a.eu/%C5%A1t%C3%ADtky/ryba?page=1</p> <p>http://www.canstockphoto.cz/vektor-klipart/d%C4%9Bti.html</p> <p>http://xn--omalovnyky-51a.eu/%C5%A1t%C3%ADtky/v%C4%8Del%C3%AD%20%C3%BAI</p> <p>http://pixabay.com/cs/zv%C3%AD%C5%99ata-med-kreslen%C3%BD-film-housenka-24633/</p> <p>http://www.pixmac.cz/fotka/sp%C3%ADc%C3%AD+ko%C4%8Dka/000016403929</p> <p>http://fotografiefotky.cz/kategorie/pes/</p> <p>http://www.i-creative.cz</p> <p>http://zahradaola.webgarden.cz/kopretina</p> <p>http://www.canstockphoto.cz/snimky-fotografie/ko%C5%A1%C3%ADk.html</p> <p>http://www.canstockphoto.cz/vektor-klipart/ostatky.html</p> <p>http://www.fotosearch.cz/ilustrace/jitrnice.html</p> <p>Ilustrace: © ZONER software, a. s., poskytnuto pod licencí CC BY.</p>



Piš krásně

2									
---	--	--	--	--	--	--	--	--	--

Zapiš správný počet














Kolik srdíček má sluníčko na tváři? Zapiš do kolečka pod sluníčkem.






Piš krásně

3									
---	--	--	--	--	--	--	--	--	--

Jak velkou svačinu měl pelikán?

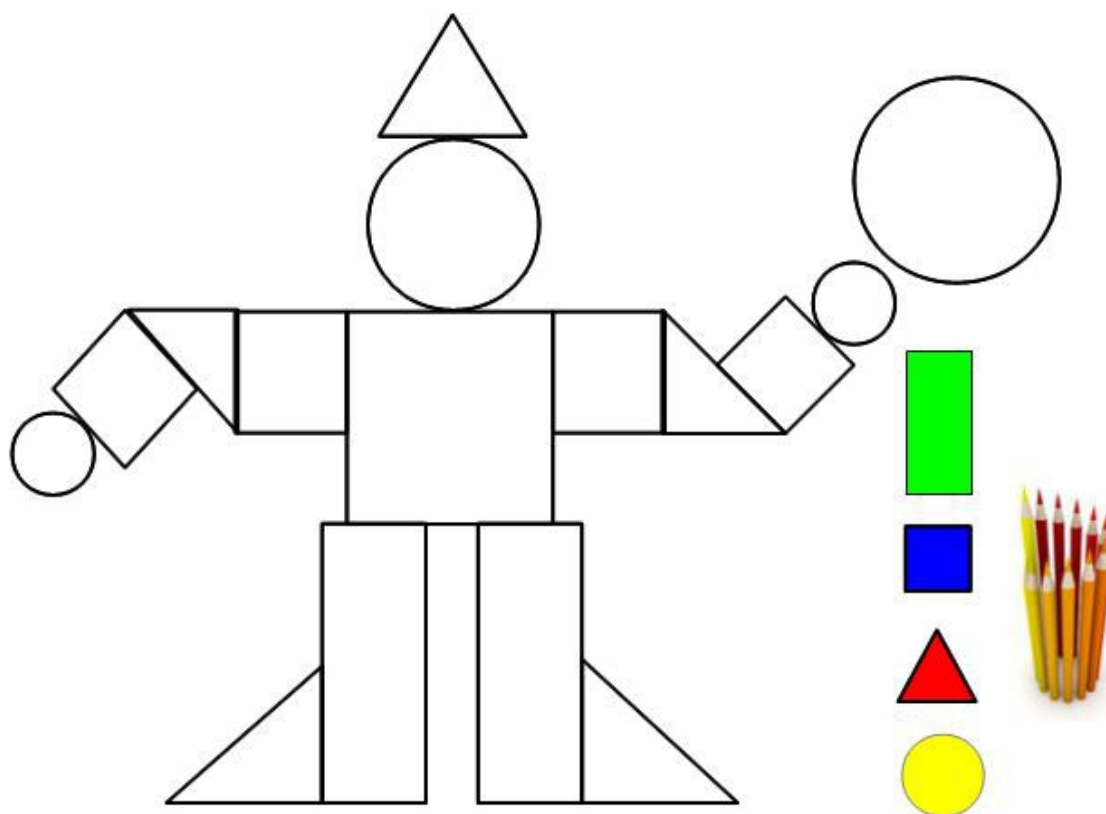












Piš krásně



Vyhledej a pojmenuj geometrické tvary a vykresli panáka.



Přečti příklad, vypočítej a zapiš.

		2	+	1		
		1	+	2		
		1	+	1		
		2	+	1		

Přečti příklad, vypočítej a zapiš




3	-	1		
---	---	---	--	--



2	-	1		
---	---	---	--	--

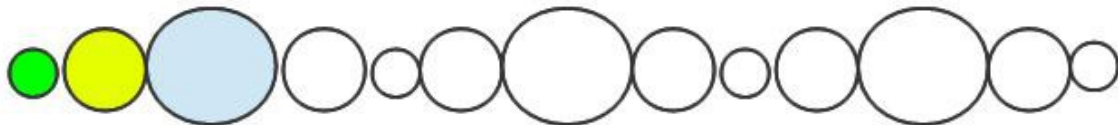


3	-	2		
---	---	---	--	--



3	-	1		
---	---	---	--	--

Vybarvi kruhy podle vzoru



Přečti příklad, vypočítej a zapiš

2	+	1		
---	---	---	--	--

1	+	1		
---	---	---	--	--

1	+	2		
---	---	---	--	--

2	+	1		
---	---	---	--	--

3	-	1		
---	---	---	--	--

2	-	1		
---	---	---	--	--

3	-	2		
---	---	---	--	--

3	-	1		
---	---	---	--	--