


| | |
|---|---|
| <i>Jméno autora</i> | <i>Ing. Ladislav Novák</i> |
| <i>Datum vytvoření</i> | <i>listopad 2011</i> |
| <i>Ročník</i> | <i>9.</i> |
| <i>Vzdělávací oblast obor tematický okruh</i> | <i>Člověk a příroda Zeměpis Česká republika – přírodní zdroje</i> |
| <i>Téma – název učebního materiálu</i> | <i>Test – Pedosféra</i> |
| <i>Anotace</i> | <i>Do připravených rámečků doplň správné výrazy</i> |



PÍSEMNÝ TEST - BIOTA - 9. TŘÍDA



Počet bodů :



Hodnocení :

Jméno a příjmení : Datum :

Bodové ohodnocení :

1 - 64 - 54, 2 - 53 - 43, 3 - 42 - 32, 4 - 31 - 21, 5 - 20 - 0

1. Naše republika leží na styku dvou horopisných soustav - 6 bodů

Západní část

Východní část

.....

.....

2. Symboly ČR - 7 bodů

| | | | | | | |
|--|--|--|--|--|--|--|
| | | | | | | |
|--|--|--|--|--|--|--|

3. Co je to Biota ? - 1 bodů

| |
|--|
| |
|--|

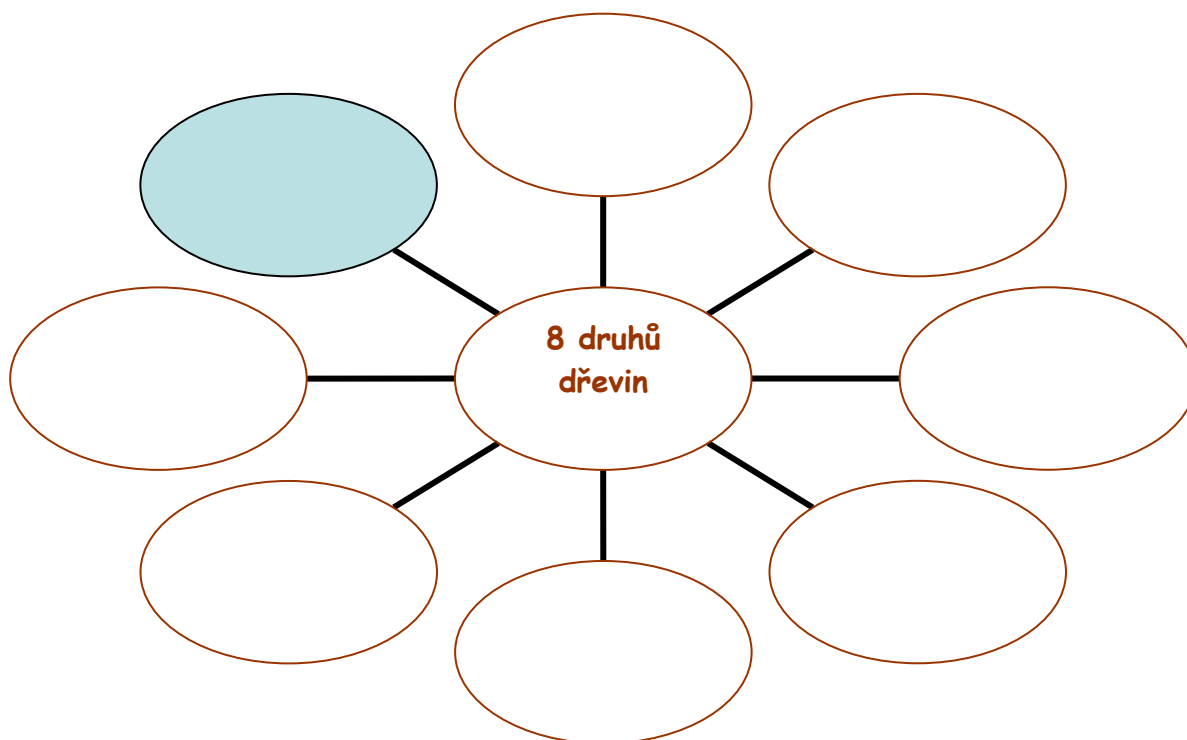
4. Co je podmínkou života na naší planetě ? - 2 bodů

| |
|--|
| |
|--|

5. Jaké známe přírodní společenstva - 6 bodů

| | | |
|--|--|--|
| | | |
|--|--|--|

6. Základní vegetační stupně podle druhů dřevin - 24 body




7. Přiřaď podle Atlasu pohoří. kraj a nadmořskou výšku - 18 bodů

| Plechý | Sněžka | Milešovka | Králický Sněžník | Praděd | Klínovec |
|--------|--------|-----------|------------------|--------|----------|
| | | | | | |
| | | | | | |
| | | | | | |

PÍSEMNÝ TEST Č. 8 - BIOTA - VYHODNOCENÍ



Počet bodů :



Hodnocení :

Jméno a příjmení : Datum :

Bodové ohodnocení :

1 - 64 - 54, 2 - 53 - 43, 3 - 42 - 32, 4 - 31 - 21, 5 - 20 - 0

8. Naše republika leží na styku dvou horopisných soustav - 6 bodů

Západní část
Česká vysočina

Východní část
Západní Karpaty

.....

.....

9. Symboly ČR - 7 bodů

| | | | | | | |
|--------|-----------|------------|-----------|-------|----------------------|-------|
| Vlajka | Malý znak | Velký znak | Trikolóra | Pečeť | Standarta prezidenta | Hymna |
|--------|-----------|------------|-----------|-------|----------------------|-------|

10. Co je to Biota ? - 1 bodů

Souhrnné obecné označení pro živé i vymřelé organismy

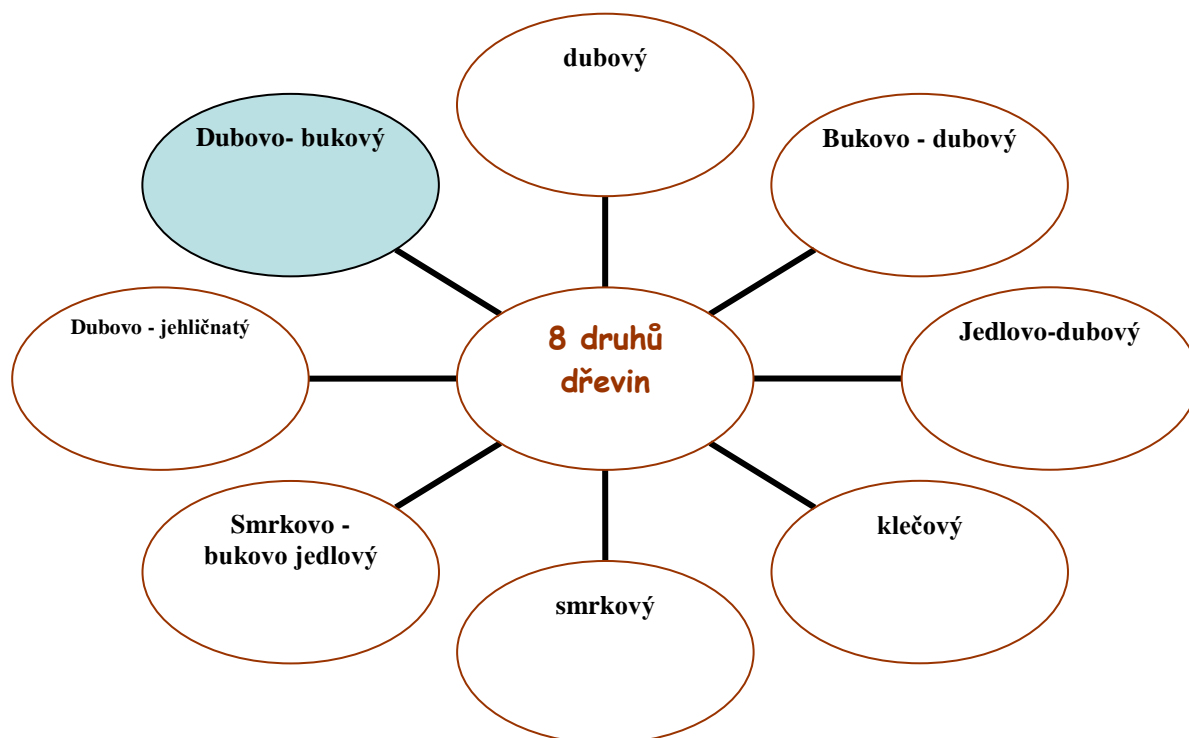
11. Co je podmínkou života na naší planetě ? - 2 bodů

- Podmínkou života na naší planetě je sluneční záření
 - To vydává teplo a světlo
 - Dále je to voda, vzduch a půda

12. Jaké známe přírodní společenstva - 6 bodů



13. Základní vegetační stupně podle druhů dřevin - 24 body



14. Přiřaď podle Atlasu pohoří. kraj a nadmořskou výšku - 18 bodů

| Plechý | Sněžka | Milešovka | Králický Sněžník | Praděd | Klínovec |
|-----------|------------------|------------------|------------------|------------------|-------------|
| Šumava | Krkonoše | České středohoří | Králický Sněžník | Hrubý Jeseník | Krušné hory |
| Jihočeský | Králové-hradecký | Ústecký | Pardubický | Moravsko-slezský | Ústecký |
| 1378 m | 1602 m | 837 m | 1423 m | 1491 m | 1244 m |

Zdroje :

Použito Klipartů ze sady Microsoft Office