

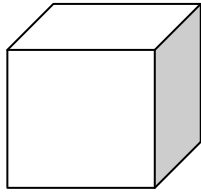

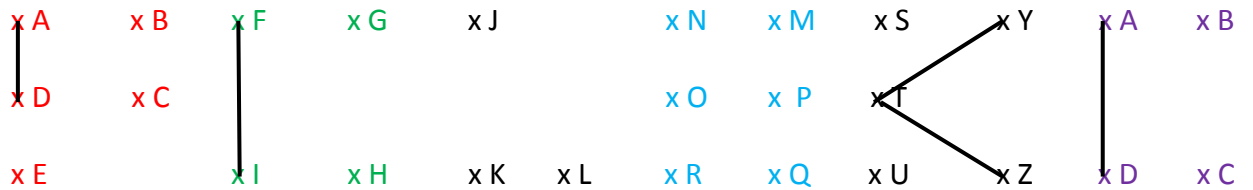


1. Pojmenuj správně geometrická tělesa.



.....

2. Když správně spojíš barevné body podle abecedy, vyjde ti název sousedního státu České republiky.



3. Spočítej, kolik je v obrázku trojúhelníků.

