



INVESTICE DO ROZVOJE VZDĚLÁVÁNÍ

Vzdělávací oblast : ČLOVĚK A PŘÍRODA

Předmět : ZEMĚPIS

Téma : TROPICKÁ A JIŽNÍ AFRIKA

Ročník: 6. ročník

Popis: V úvodní části - opakování z minulé hodiny na slepou mapu Afriky (forma kvízu). Následuje výklad o „tropické a jižní Africe“

Očekávaný výstup: Žák dokáže určit v jakých oblastech Afriky jsou státy „tropické“ Afriky a jižní Afriky. Má přehled o hospodářské vyspělosti obou afrických regionů. Ví jaké nerostné suroviny se těží a jaké zemědělské plodiny se pěstují v těchto oblastech.

Druh učebního materiálu: prezentace

Autor: Mgr. Petr Papáček

Poznámky:

KVÍZ

AFRIKA

1) ?????????

A. Madagaskar

B. Somálský
poloostrov

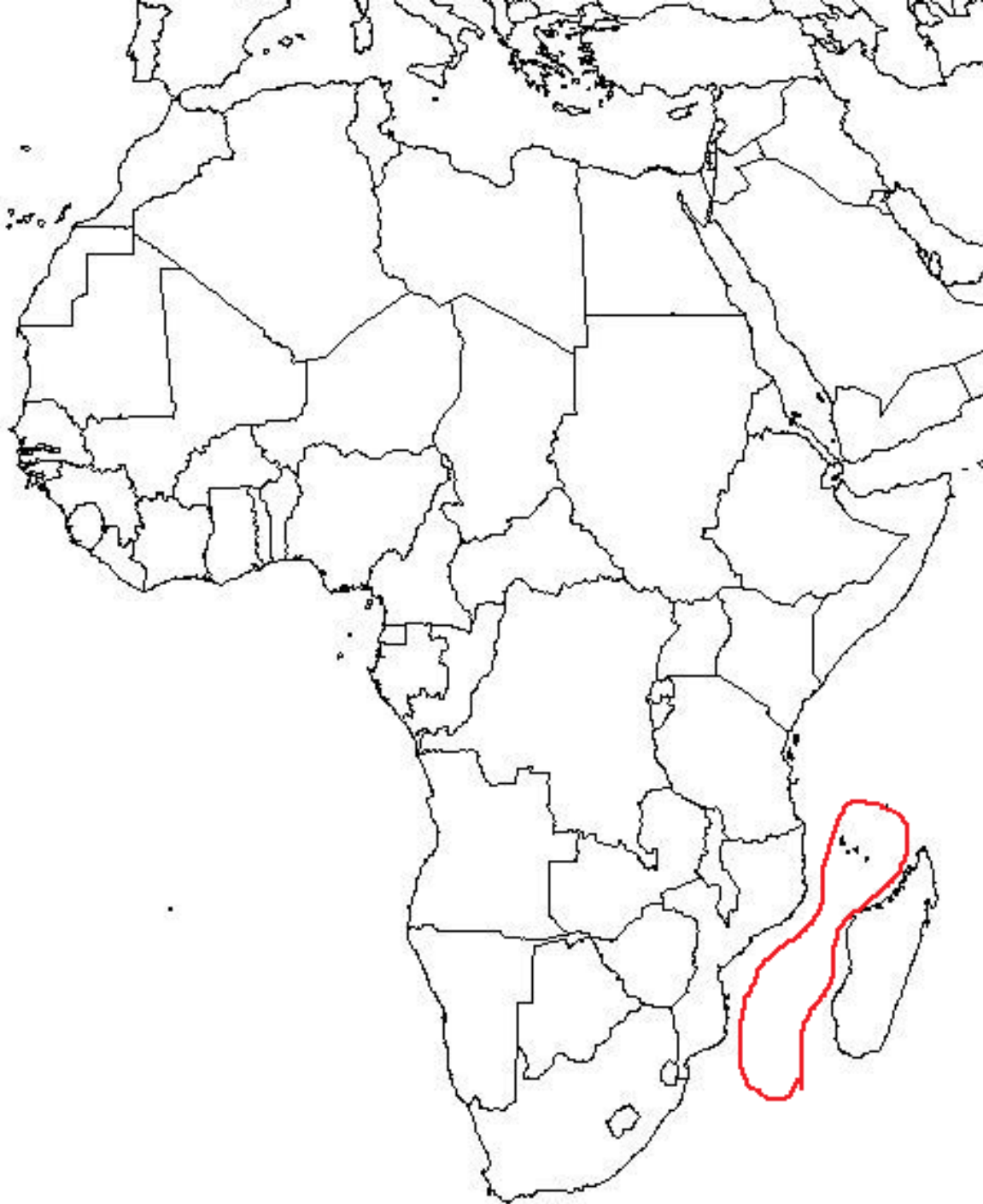
C. Arabský
poloostrov



1.6.2011 obrázek dostupný z adresy:
http://geoportal.alej.cz/_uploads/files/africa.jpg

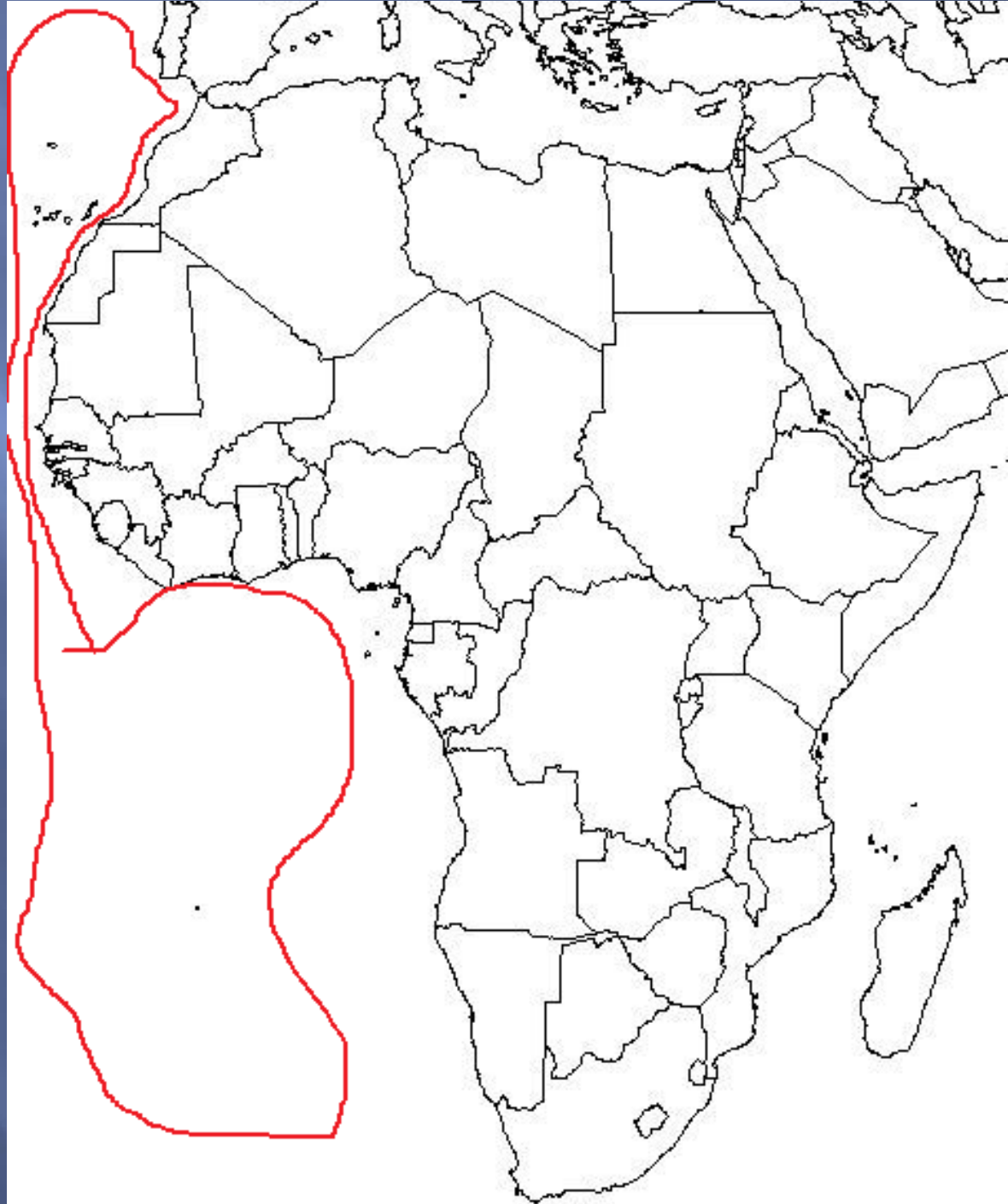
2) ??????????

- A. Gibraltarský průliv
- B. Suezský průplav
- C. Mosambický průliv



3) ?????????

- A. Atlantský oceán
- B. Indický oceán
- C. Guinejský záliv



1.6.2011 obrázek dostupný z adresy:
http://geoportal.alej.cz/_uploads/files/africa.jpg

4) ??????????

- A. Etiopská vysočina
- B. Kalahari
- C. Koňžská pánev



5) ??????????

- A. Dračí hory
- B. Atlas
- C. Namib



1.6.2011 obrázek dostupný z adresy:
http://geoportal.alej.cz/_uploads/files/africa.jpg

6) ??????????

- A. Madagaskar
- B. Somálský poloostrov
- C. Arabský poloostrov



7) ?????????

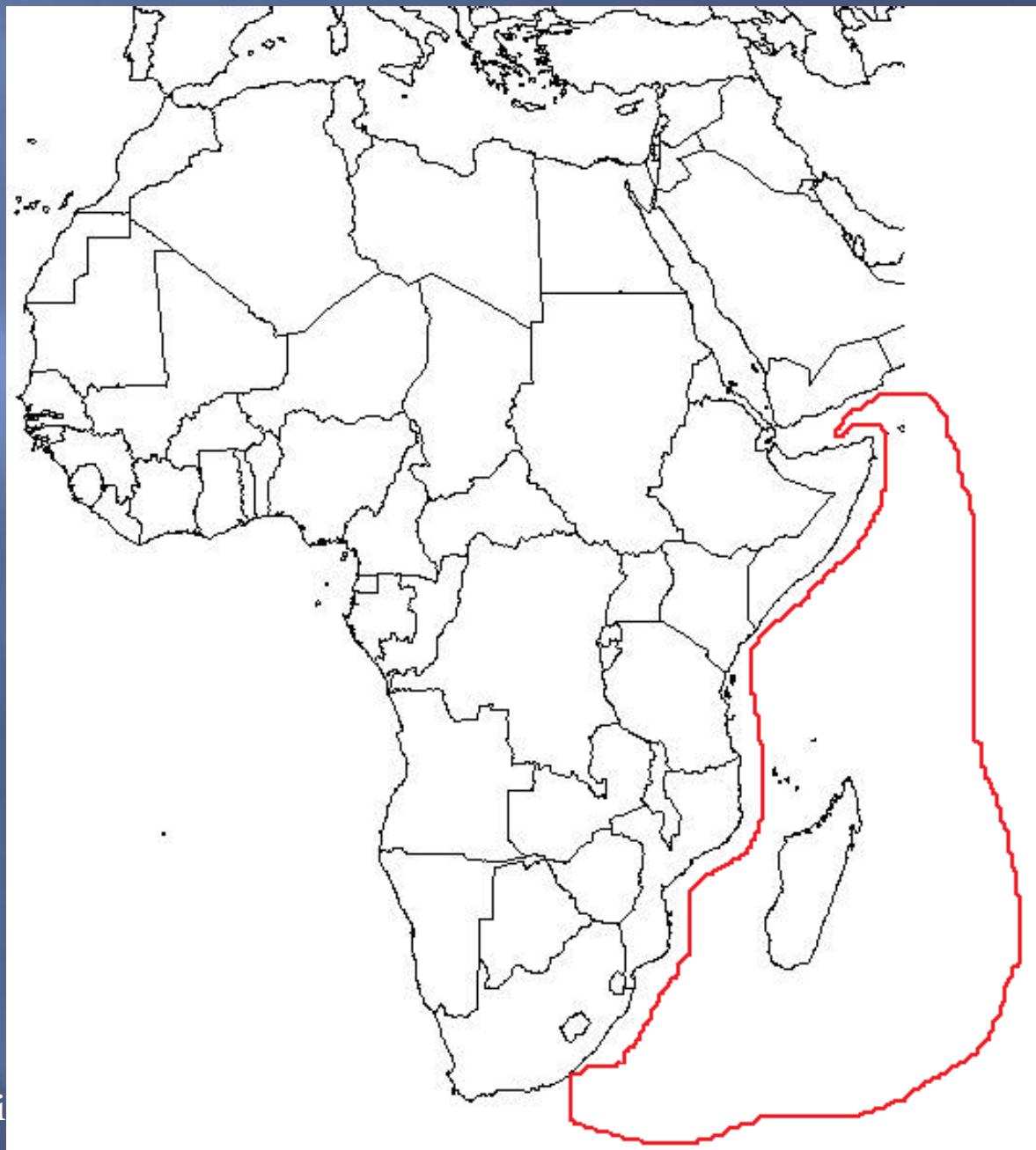
- A. Atlantský oceán
- B. Rudé moře
- C. Guinejský záliv



1.6.2011 obrázek dostupný z adresy:
http://geoportal.alej.cz/_uploads/files/africa.jpg

8) ?????????

- A. Atlantský oceán
- B. Rudé moře
- C. Indický oceán



1.6.2011 obrázek dostupný z adresy:
http://geoportal.alej.cz/_uploads/files/africa.jpg

9) ??????????

- A. Etiopská vysočina
- B. Kalahari
- C. Koňžská pánev



1.6.2011 obrázek dostupný z adresy:
http://geoportal.alej.cz/_uploads/files/africa.jpg

10) ??????????

A. Dračí hory

B. Atlas

C. Namib



1.6.2011 obrázek dostupný z adresy:
http://geoportal.alej.cz/_uploads/files/africa.jpg

SPRÁVNÉ ODPOVĚDI.....

1) ?????????

A. Madagaskar

B. Somálský
poloostrov

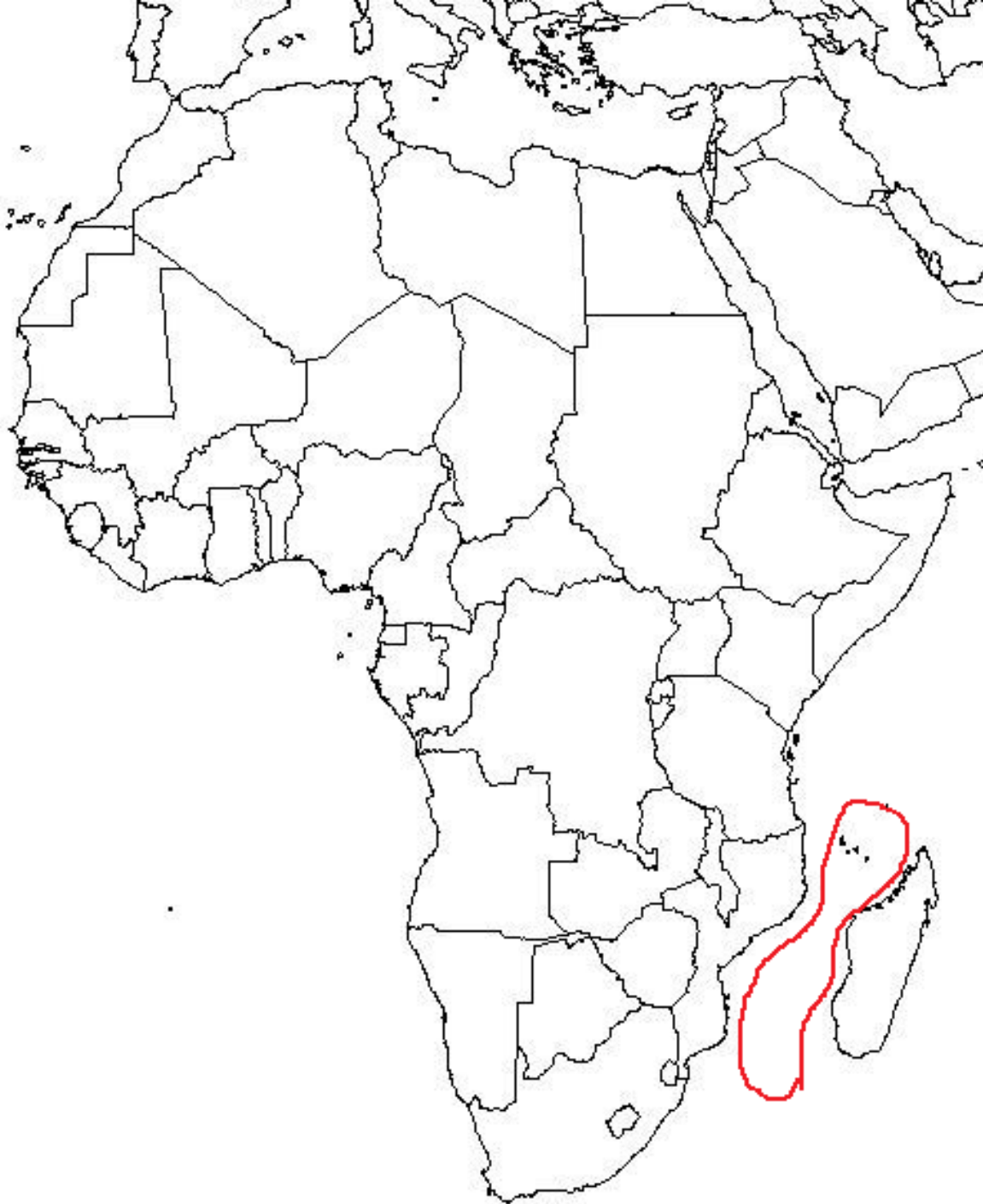
C. Arabský
poloostrov



1.6.2011 obrázek dostupný z adresy:
http://geoportal.alej.cz/_uploads/files/africa.jpg

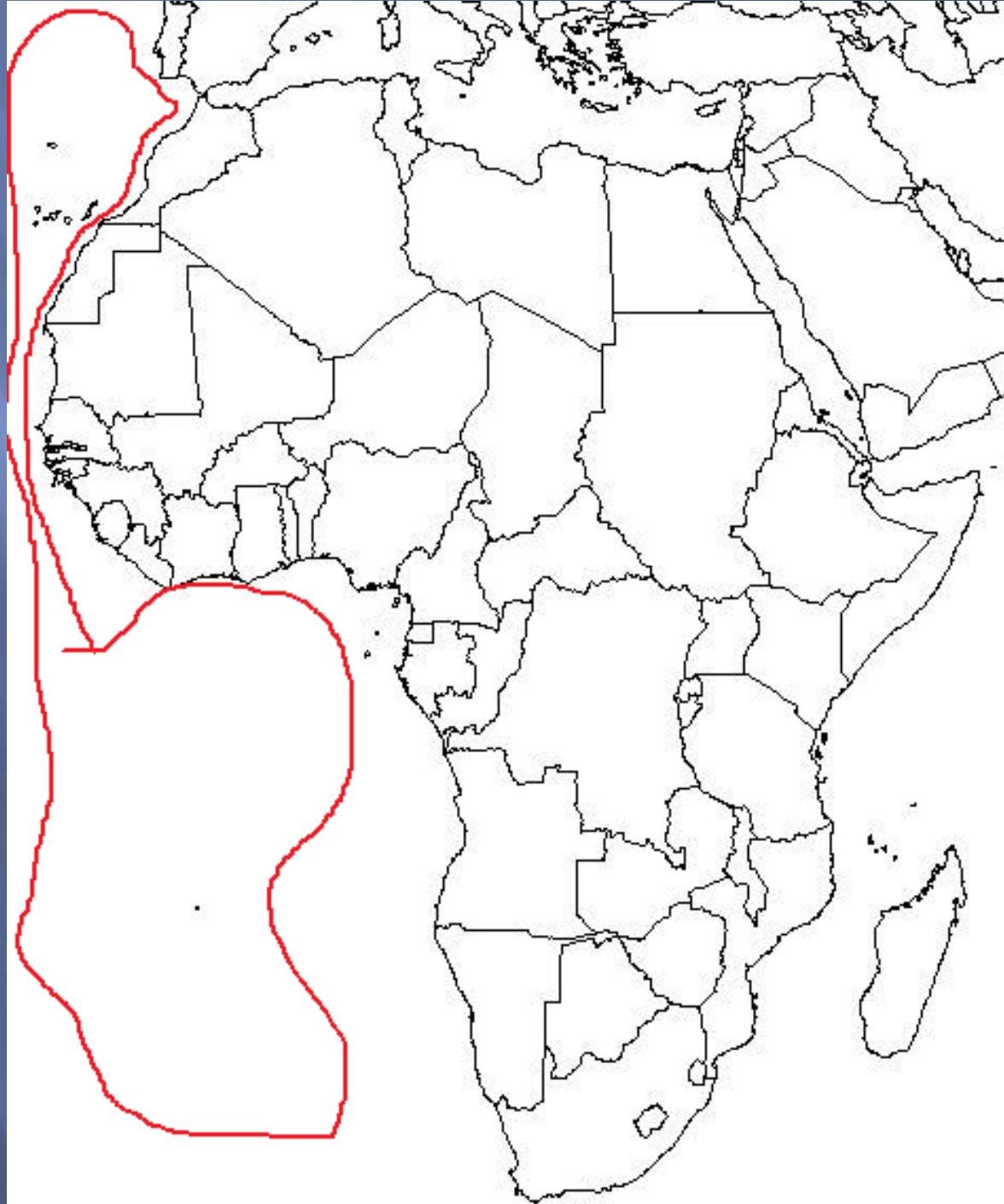
2) ??????????

- A. Gibraltarský průliv
- B. Suezský průplav
- C. **Mosambický průliv**



3) ??????????

- A. **Atlantský oceán**
- B. Indický oceán
- c. Guinejský záliv



4) ??????????

A. Etiopská
vysočina

B. Kalahari

C. **Koňžská pánev**



5) ?????????

A. Dračí hory

B. Atlas

C. Namib



1.6.2011 obrázek dostupný z adresy:
http://geoportal.alej.cz/_uploads/files/africa.jpg

6) ??????????

A. **Madagaskar**

B. Somálský
poloostrov

C. Arabský
poloostrov



7) ?????????

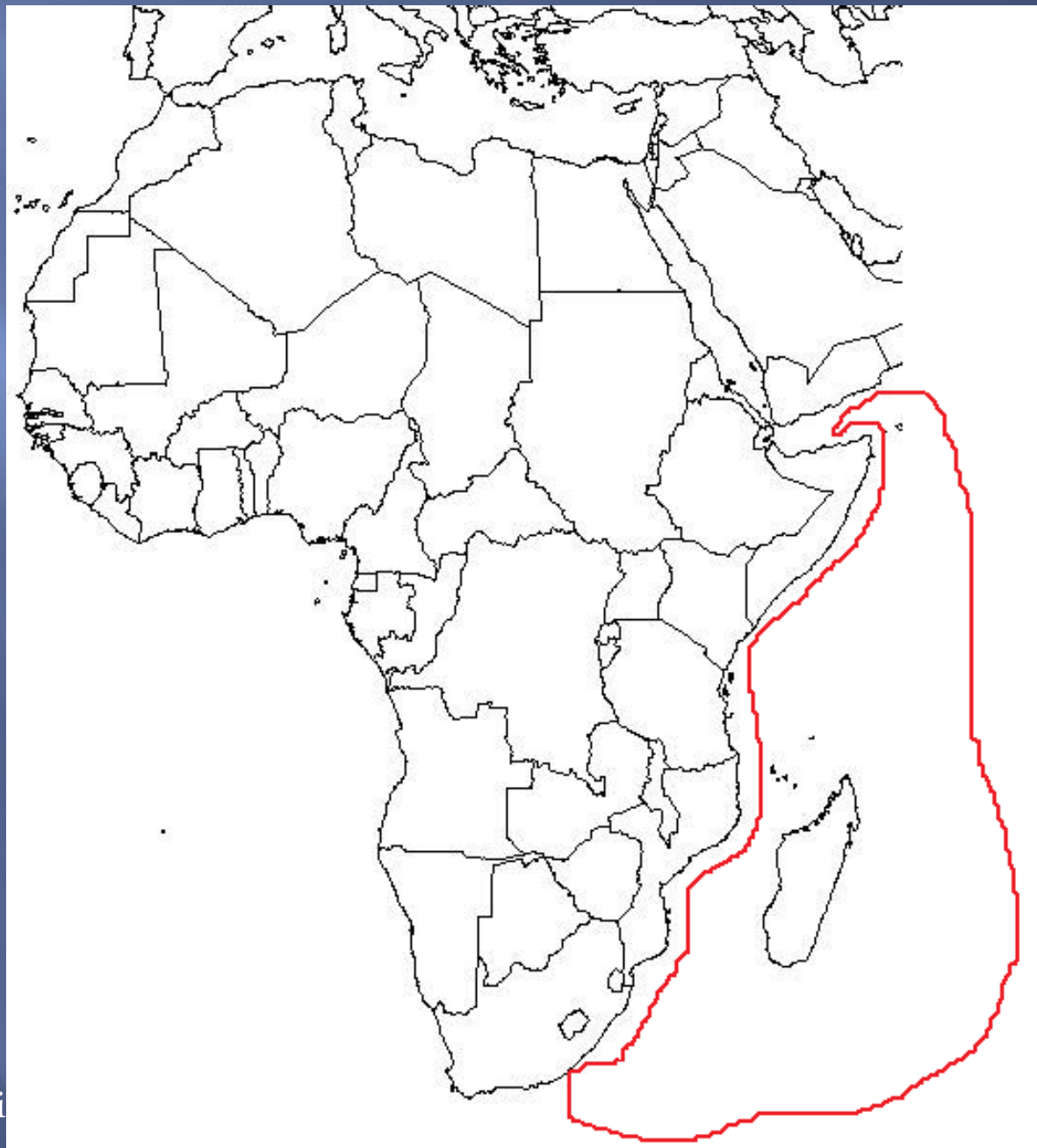
- A. Atlantský oceán
- B. Rudé moře
- C. Guinejský záliv



1.6.2011 obrázek dostupný z adresy:
http://geoportal.alej.cz/_uploads/files/africa.jpg

8) ??????????

- A. Atlantský oceán
- B. Rudé moře
- C. **Indický oceán**



9) ??????????

- A. Etiopská vysočina
- B. **Kalahari**
- C. Koňžská pánev



10) ?????????

A. Dračí hory

B. Atlas

C. Namib



1.6.2011 obrázek dostupný z adresy:
http://geoportal.alej.cz/_uploads/files/africa.jpg

TROPICKÁ AFRIKA



1.6.2011 obrázek
dostupný z adresy:
<http://subsaharska-afrika.navajo.cz/subsaharska-afrika.jpg>

POLOHA

- ▣ Oblast přibližně mezi oběma obratníky



1.6.2011 obrázek dostupný z adresy: http://www.zatlanka.cz/vyukove-materialy/zemepis/obrazky/biomy_sveta.jpg

OBYVATELSTVO

- ▣ Převažují černoši (černá rasa)



1.6.2011 obrázek dostupný z adresy:
<http://www09.fcbarcelona.cz/profilu/hraci/etoo/A.jpg>

1.6.2011 obrázek dostupný z adresy:
http://chelseafc.cz/media/34/Image/jakub_foto/dr_ogba3.jpg

PYGMEJOVÉ

- ▣ Neobvykle nízcí černoši (do 150 cm) tropických pralesů v Africe



1.6.2011 obrázek
dostupný z adresy:
http://www.czech-press.cz/afp/editor/slozky/KO0807-8_KongoPygmejoveDan y%20s%20Bambutip.jpg

HOSPODÁŘSTVÍ

- ▣ Méně vyspělé státy
- ▣ Zaměřené na:
 - Těžba dřeva
 - Těžba nerostných surovin
 - Pěstování tropických plodin
 - *Kakaovník*
 - *Kávoovník*
 - *Podzemnice olejná*
 - *Cukrová třtina*



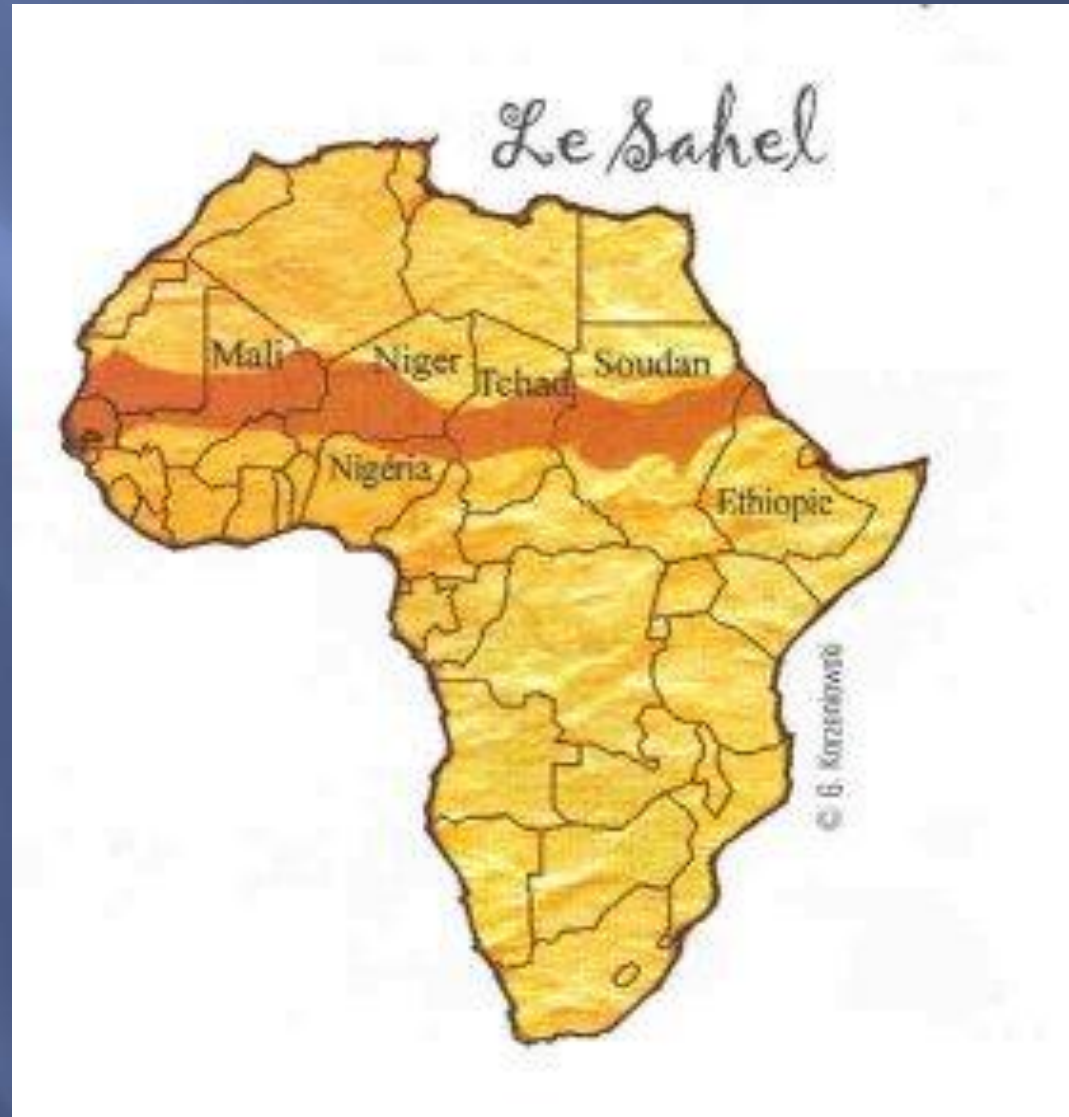
1.6.2011 obrázek
dostupný z adresy:
http://upload.wikimedia.org/wikipedia/commons/2/29/Cut_sugarcane.jpg

1.6.2011 obrázek dostupný z adresy:
<http://www.kompas.estranky.cz/img/picture/1011/cukrov%C3%A1-t%C5%99tina---sklize%C5%88.jpg>



SAHEL

- ▣ Úzký pás (přechod savany a pouště)
- ▣ Suchý rok = katastrofa (hynou rostliny - hlad...)



1.6.2011 obrázek dostupný z adresy:

http://www.sahelsounds.com/uploaded_images/carte_sahel-747064.jpg

STÁTY A MĚSTA





SENEGAL

- ▣ Hl. město:
Dakar
- Hlavní přístav
Atlantského



1.6.2011 obrázek dostupný z adresy:
<http://t2.gstatic.com/images?q=tbn:ANd9GcSKa2HHEyxDKt388ugZgTIMIE3imeYs4JN1cVij6QVIqGLbvOdu&t=1>



1.6.2011 obrázek dostupný z adresy:
<http://www.fotbalportal.cz/www/images/galerie/9103-300-225.jpg>

ZNÁMÁ RALLYE PAŘÍŽ - DAKAR

1.6.2011 obrázek dostupný z adresy:
<http://aflit.arts.uwa.edu.au/images/CountryMapSenegalEN.gif>



NIGÉRIE



▣ Nejlidnatější stát Afriky

1.6.2011 obrázek dostupný z adresy:
<http://www.cojeco.cz/Attach/ilustrations/cpos393747e62908c.gi>



1.6.2011 obrázek dostupný z adresy:
<http://www.chelsea-fc.cz/files/itemmedia/view/294.jpg>



1.6.2011 obrázek dostupný z adresy:
http://i3.cn.cz/3/1275573207_nigerie.jpg

DEMOKRATICKÁ REPUBLIKA KONGO

- ▣ Velké nerostné bohatství (diamanty, měď)



1.6.2011 obrázek dostupný z adresy:
<http://img.aktualne.centrum.cz/108/50/1085065-demokraticka-republika-kongo.png>

SÚDÁN

▣ Největší stát Afriky



1.6.2011 obrázek dostupný z adresy:
<http://www.wycliffe.nl/db/vl/soedan-kaart.jpg>



1.6.2011 obrázek dostupný z adresy:
http://www.ckplaneta.cz/sudan/imgs/map_sud02xx.jpg

JIŽNÍ AFRIKA



1.6.2011 obrázek dostupný z
adresy:
<http://afrika.navajo.cz/afrika-2.jpg>

POLOHA

- ▣ Oblast přibližně od 10° j. š. na jih + Madagaskar



OBYVATELSTVO

- ▣ Převážně černoši
- ▣ Méně běloši (kolonisté)



ZDROJ: http://www.kamjezdi.cz/wp-content/uploads/2010/05/012_rozhon_JAR.jpg

HOSPODÁŘSTVÍ

- ▣ Vyniká Jihoafrická republika (JAR)
- ▣ Ostatní státy málo vyspělé

- ▣ Těžba:

- ▣ *Mědi*
- ▣ *Cínu*
- ▣ *Diamantů*
- ▣ *Zlata*



ZDROJ:
<http://www.topdiamanty.cz/wp-content/gallery/diamanty/diamanty-1.jpg>



ZDROJ:
<http://www.zlatnictvinoemi.cz/upload/image/zlato.jpg>

STÁTY A MĚSTA



ZDROJ: <http://www.bedekr.cz/files/staty/kont/afrika.gif>

Jihoafrická republika (JAR)




▣ Hlavní město: Pretoria



1.6.2011 obrázek dostupný z adresy:
http://www.thecommonwealth.org/Shared ASP_Files/UploadedFiles/%7B9211FB36-3F54-4C52-B5FD-A1AE769E7266%7D_SouthAfrica.gif



1.6.2011 obrázek dostupný z adresy:
http://www.mojeafrika.cz/upl/zajezdy/100139o_Safari_v_Kruger_NP.bmp



1.6.2011 obrázek dostupný z adresy:
<http://abdoukili.files.wordpress.com/2008/07/nelson-mandela.jpg>

1.6.2011 obrázek dostupný z adresy: <http://roxroom.wz.cz/pct/news2/cape-town.jpg>



KAPSKÉ MĚSTO

Madagaskar



1.6.2011 obrázek dostupný z adresy:
<http://vesmir.msu.cas.cz/Madagaskar/images/mapa001.jpg>



1.6.2011 obrázek dostupný z adresy:
<http://www.hicsuntleones.info/htm/pic/hrebicek.jpg>

1.6.2011 obrázek dostupný z adresy:
<http://jaruna7.bloguje.cz/img/vanilka1.jpg>