



evropský
sociální
fond v ČR



EVROPSKÁ UNIE



MINISTERSTVO ŠKOLSTVÍ,
MLÁDEŽE A TĚLOVÝCHOVY



OP Vzdělávání

pro konkurenceschopnost

Vzdělávací
oblast:
ČLOVĚK A
PŘÍRODA

INVESTICE DO ROZVOJE VZDĚLÁVÁNÍ

Předmět:

ZEMĚPIS

Téma: SROVNÁVACÍ TEST (II. POLOLETÍ)

Ročník: 6.

Popis: Test obsahuje otázky, které se týkají látky II. pololetí 6. ročníku.

Očekávaný výstup: Žák si prověří znalosti z okruhů: Hydrosféra, pedosféra, biosféra, zeměpis světadílů a oceánů

Druh učebního materiálu: písemná práce

Autor: Mgr. Petr Papáček

Poznámky:

JMÉNO:

- 1) Největší oceán na Zemi? (1 b.)
- 2) Co je to pedosféra? (1 b.)
- 3) Co je to poloostrov + napiš příklad? (2 b.)
- 4) Co je příčinou vzniku vln tsunami? (1 b.)
- 5) Největší řeka světa? (1 b.)
- 6) Co je to biosféra? (1 b.)
- 7) Doplně do obrázku jednotlivé teplotní pásy od rovníku na sever. (2 b.)
Obrázek je vlastním dílem autora



- 8) Napiš tři příklady oblasti rozšíření tropických lesů. (3 b.)
- 9) Co je charakteristické pro podnebí savan? (1 b.)
- 10) Napiš tři příklady živočichů typických pro savany. (3 b.)
- 11) Jak se říká stepím v Jižní Americe? (1 b.)
- 12) Vysvětli nebo popiš co je to tundra? (1 b.)
- 13) Největší jezero Afriky? (1 b.)
- 14) Největší poušť Afriky? (1 b.)
- 15) Nejvyšší vrchol Afriky? (1 b.)
- 16) Pohoří na jihu Afriky? (1 b.)

17)Spoj dvojice: (5 b.)

- a. Súdán
- b. Maroko
- c. Egypt
- d. Libye
- e. Nigérie

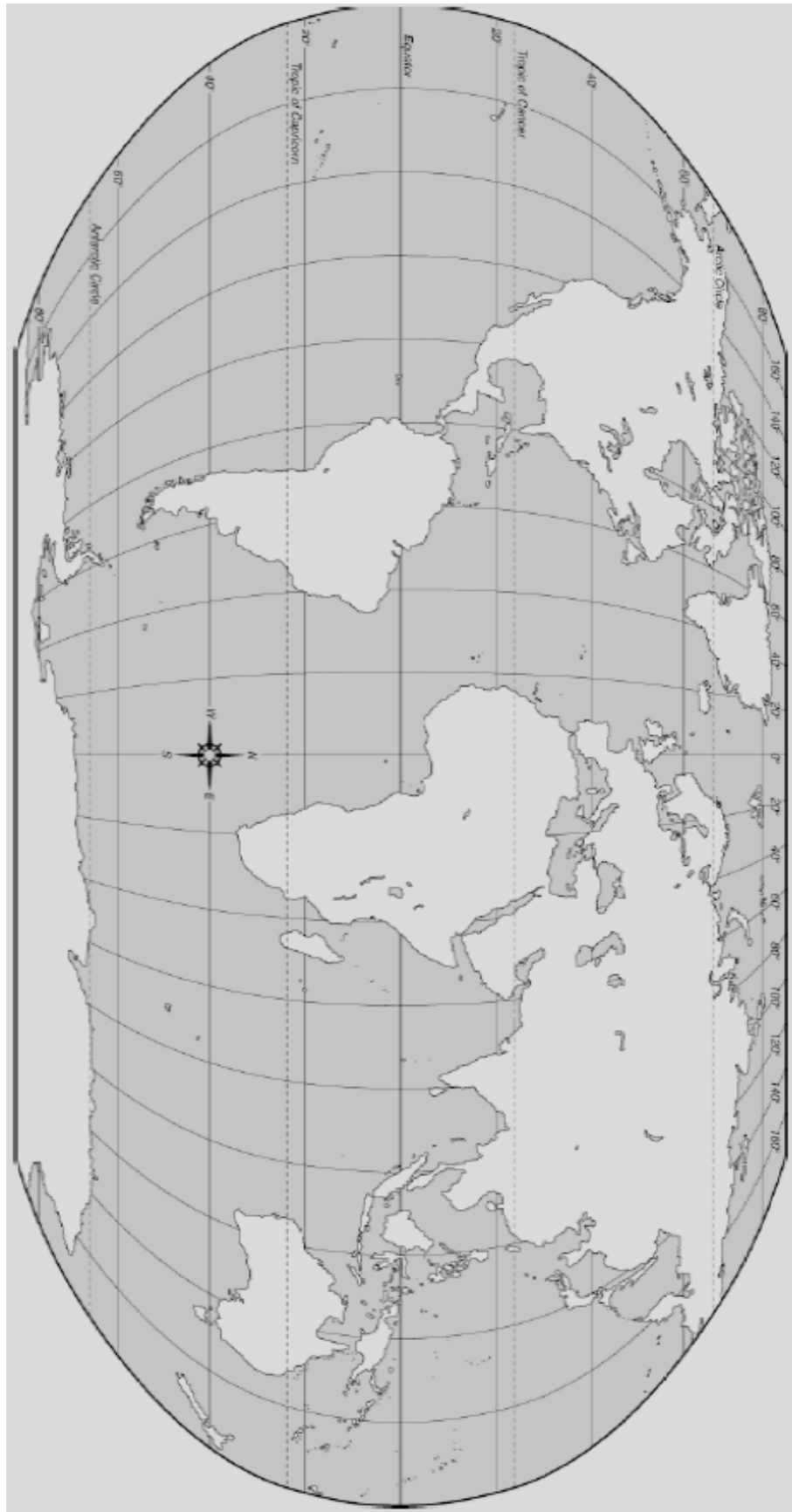
Tripolis

největší stát Afriky
nejlidnatější stát Afriky
Rabat
Káhira

18)Zakresli do slepé mapy tyto pojmy: (8 b.)

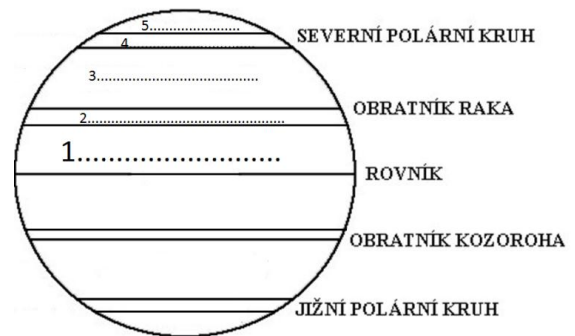
10.6.2011 obrázek dostupný z adresy: http://www.wpclipart.com/geography/continents/blank_world_map.png

- A. Tichý oceán
- B. Jižní Amerika
- C. Arabský poloostrov
- D. Mexický záliv
- E. Konžská pánev
- F. Atlas
- G. Guinejský záliv
- H. Kalahari



JMÉNO:

- 1) Největší oceán na Zemi? (1 b.) – **Tichý oceán**
- 2) Co je to pedosféra? (1 b.) – **PŮDNÍ OBAL ZEMĚ**
- 3) Co je to poloostrov + napiš příklad? (2 b.) – **ČÁST PEVNIN VBÍHAJÍCÍ DO OCEÁNŮ A MOŘÍ, ARABSKÝ POLOOSTROV**
- 4) Co je příčinou vzniku vln tsunami? (1 b.) – **PODMOŘSKÉ ZEMĚTŘESENÍ NEBO VÝBUCH PODMOŘSKÉ SOPKY**
- 5) Největší řeka světa? (1 b.) - **AMAZONKA**
- 6) Co je to biosféra? (1 b.) – **ŽIVÝ OBAL ZEMĚ (VŠE ŽIVÉ NA ZEMI)**
- 7) Doplň do obrázku jednotlivé teplotní pásy od rovníku na sever. (2 b.) - **1. TROPICKÝ PÁS, 2. SEVERNÍ SUBTROPICKÝ PÁS, 3. SEVERNÍ MÍRNÝ PÁS, 4. SEVERNÍ SUBPOLÁRNÍ PÁS, 5. SEVERNÍ POLÁRNÍ PÁS**



- 8) Napiš tři příklady oblasti rozšíření tropických lesů. (3 b.) – **AMAZONIE (JIŽNÍ AMERIKA), TROPICKÁ (ROVNÍKOVÁ) AFRIKA, JV ASIE (ZADNÍ INDIE, INDONÉSIE)**
- 9) Co je charakteristické pro podnebí savan? (1 b.) – **HORKO, OBDOBÍ DEŠŤŮ + SUCHA**
- 10) Napiš tři příklady živočichů typických pro savany. (3 b.) – **ANPILOPY, ŽIRAF, ZEBRA...**
- 11) Jak se říká stepím v Jižní Americe? (1 b.) - **PAMPY**
- 12) Vysvětli nebo popiš co je to tundra? (1 b.) – **V POLÁRNÍCH OBLASTECH, VELMI CHLADNO, BEZLESÁ KRAJINA**
- 13) Největší jezero Afriky? (1 b.) – **VIKTORIINO JEZERO (UKEREWE)**
- 14) Největší poušť Afriky? (1 b.) – **SAHARA**
- 15) Nejvyšší vrchol Afriky? (1 b.) – **UHURU (KILIMANDŽÁRO)**
- 16) Pohoří na jihu Afriky? (1 b.) – **DRAČÍ HORY**
- 17) Spoj dvojice: (5 b.)

a. Súdán	D. Tripolis
b. Maroko	A. největší stát Afriky
c. Egypt	E. nejlidnatější stát Afriky

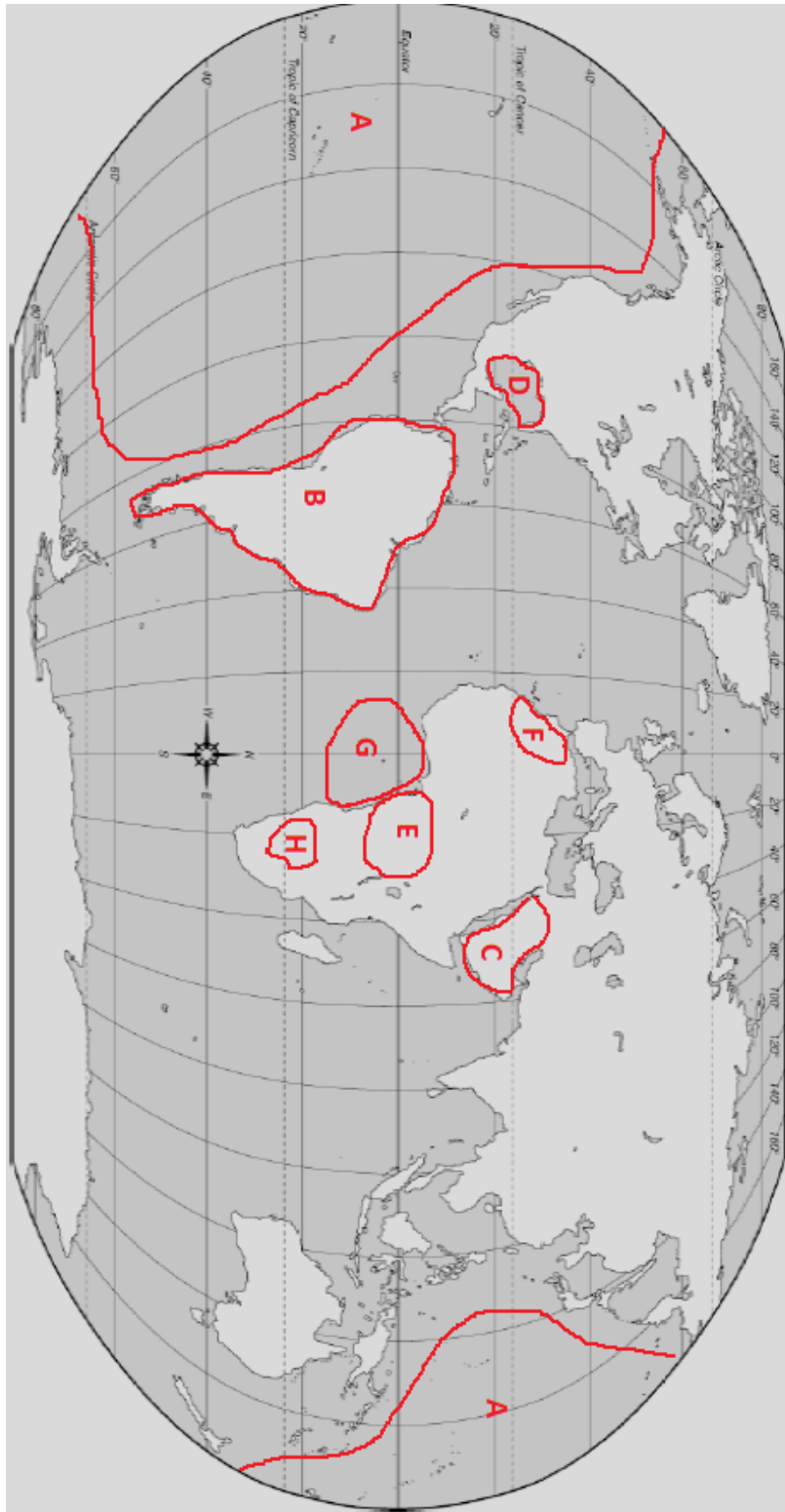
- d. Libye
- e. Nigérie

- B. Rabat
- C. Káhira

18) Zakresli do slepé mapy tyto pojmy: (8 b.)

10.6.2011 obrázek dostupný z adresy: http://www.wpclipart.com/geography/continents/blank_world_map.png

- A. Tichý oceán
- B. Jižní Amerika
- C. Arabský poloostrov
- D. Mexický záliv
- E. Konžská pánev
- F. Atlas
- G. Guinejský záliv
- H. Kalahari



BODOVÁNÍ:

Výborně = 35 – 32 bodů

Chvalitebně = 31 – 25 bodů

Dobře = 24 – 18 bodů

Dostatečně = 17 – 7 bodů

Nedostatečně = 6 – 0 bodů