

Výukový materiál

zpracovaný v rámci projektu



Základní škola Sokolov, Běžecká 2055
pracoviště Boženy Němcové 1784

Název a číslo projektu: Moderní škola, CZ.1.07/1.4.00/21.3331

Šablona: III/2 Inovace a zkvalitnění výuky prostřednictvím ICT

Sada/předmět (oblast): Matematika

Číslo výukového materiálu: 8_M_11

XI 6-13:13

Vedlejší a vrcholové úhly

Anotace výukového materiálu: Pomocí připravených otázek popíší vrcholové a vedlejší úhly. Pod obdélníky jsou poznámky k zápisu do sešitu. Získané znalosti si procvičí na připravených úkolech.

Klíčová slova: úhel, vrchol, ramena, velikost, vedlejší, vrcholové

Předmět: Matematika

Ročník: 6. ročník

Autor: Mgr. Luboš Beran

Použité zdroje: SMART Notebook Version 10.0.123.0 01:25:09 Apr 3 2008

XI 6-13:13

Vrcholové úhly

p

q

Pamatuj si!

II 4-9:47

Vedlejší úhly

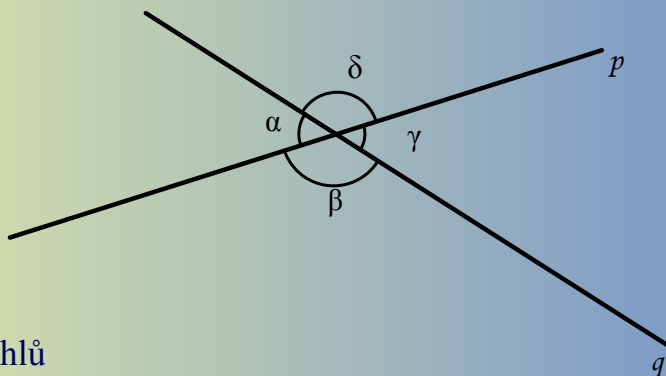
p

q

Pamatuj si!

II 4-9:47

Dvojice úhlů



Vypiš dvojice vrcholových úhlů

Dopočítej velikosti úhlů

$\alpha = 52^\circ$

$\beta =$ _____

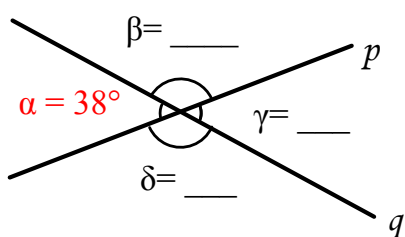
$\gamma =$ _____

$\delta =$ _____

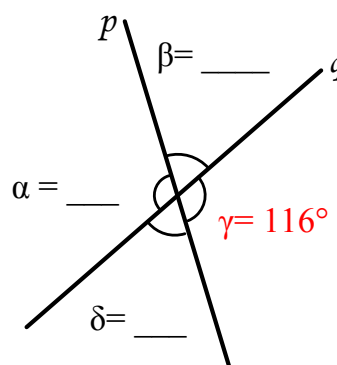
Vypiš dvojice vedlejších úhlů

11 4-9:47

Doplň velikosti úhlů, svůj výpočet zdůvodni



Kontrola:



Kontrola:

11 4-9:47