

RISKUJ V MATEMATICE

	10	20	30	40	50	60	70
sčítání							
odčítání							
násobení							
dělení							
zaokrouhli							


sčítání

Vypočti:

$$\begin{array}{r} 2678 \\ 1589 \\ \hline \end{array}$$

Zkontroluj:

?




sčítání

Vypočti:

$$\begin{array}{r} 6975 \\ 4576 \\ \hline \end{array}$$

Zkontroluj:

?




sčítání

Vypočti:

$$\begin{array}{r} 84679 \\ 8487 \\ \hline \end{array}$$

Zkontroluj:

?




sčítání

Vypočti:

$$\begin{array}{r} 7642 \\ 89450 \\ \hline \end{array}$$

Zkontroluj:

?




sčítání

Vypočti:

sčítej pod sebe:
 $64\ 892 + 4\ 879 =$

Zkontroluj:

?




sčítání

Vypočti:

sčítej pod sebe:
 $2\ 706 + 49\ 987 =$

Zkontroluj:

?



sčítání

Vypočti:

sčítej pod sebou:
 $36\ 798 + 987\ 512 =$

Zkontroluj:

?



odčítání

Vypočti:

$$\begin{array}{r} 97574 \\ - 6340 \\ \hline \end{array}$$

Zkontroluj:

?



odčítání

Vypočti:

$$\begin{array}{r} 26794 \\ - 4876 \\ \hline \end{array}$$

Zkontroluj:

?



odčítání

Vypočti:

$$\begin{array}{r} 84672 \\ - 5695 \\ \hline \end{array}$$

Zkontroluj:

?



odčítání

Vypočti:

$$\begin{array}{r} 94823 \\ - 46378 \\ \hline \end{array}$$

Zkontroluj:

?



odčítání

Vypočti:

Odečti pod sebou:
 $59\ 780 - 13\ 498 =$

Zkontroluj:

?




odčítání

Vypočti:

Odečti pod sebou:
 $68\ 014 - 34\ 456 =$

Zkontroluj:

?



odčítání

Vypočti:

Odečti pod sebou:
 $67\ 004 - 9\ 846 =$

Zkontroluj:

?




násobení

Vypočti:

$$\begin{array}{r} 2860 \\ \times 18 \\ \hline \end{array}$$

Zkontroluj:

?



násobení

Vypočti:

$$\begin{array}{r} 4502 \\ \times 35 \\ \hline \end{array}$$

Zkontroluj:

?



násobení

Vypočti:

$$\begin{array}{r} 4625 \\ \times 42 \\ \hline \end{array}$$

Zkontroluj:

?



násobení

Vypočti:

$$\begin{array}{r} 4078 \\ \times 89 \\ \hline \end{array}$$

Zkontroluj:

?



násobení

Vypočti:

$$\begin{array}{r} 95746 \\ \times \quad 67 \\ \hline \end{array}$$

Zkontroluj:

?



násobení

Vypočti:

$$\begin{array}{r} 89455 \\ \times 689 \\ \hline \end{array}$$

Zkontroluj:

?



násobení

Vypočti:

$$\begin{array}{r} 56984 \\ \times 569 \\ \hline \end{array}$$

Zkontroluj:

?



dělení

Vypočti:

$$5\ 648 : 7 =$$

Zkontroluj:

?



dělení

Vypočti:

$$26\ 945 : 8 =$$

Zkontroluj:

?



dělení

Vypočti:

$$27\ 655 : 6 =$$

Zkontroluj:

?



dělení

Vypočti:

$$25\,701 : 5 =$$

Zkontroluj:

?



dělení

Vypočti:

$$309\ 882 : 6 =$$

Zkontroluj:

?



dělení

Vypočti:

$$634\ 005 : 9 =$$

Zkontroluj:

?



dělení

Vypočti:

$$6\ 300\ 701 : 6 =$$

Zkontroluj:

?



zaokrouhlování

Vypočti:

na tisíce
78 178 =

Zkontroluj:

?




zaokrouhlování

Vypočti:

na stovky
 $62\,432 =$

Zkontroluj:

?




zaokrouhlování

Vypočti:

na tisíce
7 954 =

Zkontroluj:

?




zaokrouhlování

Vypočti:

na desítky
 $6\,492 =$

Zkontroluj:

?



zaokrouhlování

Vypočti:

na tisíce
26 904 =

Zkontroluj:

?




zaokrouhlování

Vypočti:

na tisíce
 $679\ 878 =$

Zkontroluj:

?




zaokrouhlování

Vypočti:

na desetitisíce
 $2\ 178 =$

Zkontroluj:

?



VY_32_INOVACE_S1.1_M.4.13

Autor: Mgr. Stanislava Kateřina Dvořáková

Vzdělávací oblast: Matematika a její aplikace

Téma: opakování - písemné násobení, dělení, sčítání, odčítání a zaokrouhlování

Ročník: 4.

Datum vytvoření: únor 2012

Anotace: Práce je určena žákům 4. tříd. Slouží k procvičování učiva čtvrtého ročníku.

Metodické pokyny:

Spustit prezentaci, na snímku 2 vybírat políčka s různou hodnotou. Klikáním na ně se otvírají příklady. Žáci je počítají do školního sešitu, vyvolaný žák počítá na tabuli. Kontrolu provedou žáci po odkrytí kontrolního okénka. Pro návrat na snímek s nabídkou příkladů kliknout na domeček. Lze soutěžit mezi jednotlivci / ve skupinách. Je možné DUM použít i jako zásobník příkladů.

Pomůcky:

Psací potřeby, školní sešity na matematiku, IAT (plátno k promítání)

Software:

Obrázky jsou použity z galerie MO PowerPoint 2007, nakresleny v MO Malování 2007