



evropský
sociální
fond v ČR



EVROPSKÁ UNIE



MINISTERSTVO ŠKOLSTVÍ,
MLÁDEŽE A TĚLOVÝCHOVY



OP Vzdělávání
pro konkurenceschopnost

INVESTICE DO ROZVOJE VZDĚLÁVÁNÍ

Základní škola Ústí nad Labem, Anežky České 702/17, příspěvková organizace

Číslo projektu: CZ.1.07/1.4.00/21.2887

Název projektu: „Učíme lépe a moderněji“

OP VK 1.4

Výukový materiál

Číslo DUMu/Název DUMu: VY_52_INOVACE_17_11_Královehradecký kraj, Pardubický kraj

Šablona/Číslo skupiny: 2

Autor: Mgr. Věra Waldsteinová

Vzdělávací oblast/Předmět/Téma: Člověk a jeho svět / Vlastivěda/Královehradecký kraj, Pardubický kraj

Druh učebního materiálu: Pracovní list

Metodický list: ano

Anotace: Materiál slouží k procvičení učiva, k procvičení práce s mapou.

Ověřeno ve třídě: V. B

Datum ověření: 6. 5. 2013

Prohlášení: Prohlašuji, že při tvorbě výukového materiálu jsem respektoval(a) všeobecně užívané právní a morální zvyklosti, autorská a jiná práva třetích osob, zejména práva duševního vlastnictví (např. práva k obchodní firmě, autorská práva k software, k filmovým, hudebním a fotografickým dílům nebo práva k ochranným známkám) dle zákona 121/2000 Sb. (autorský zákon). Nesu veškerou právní odpovědnost za obsah a původ svého díla. Prohlašuji dále, že výše uvedený materiál jsem ověřil(a) ve výuce a provedl(a) o tom zápis do TK.

Dávám souhlas, aby moje dílo bylo dáno k dispozici veřejnosti k účelům volného užití (§30 odst. 1 zákona 121/2000 Sb.), tj. že k uvedeným účelům může být kýmkoliv zveřejňováno, používáno, upravováno a uchováváno.

Datum: 6. 5. 2013

Podpis:

Královehradecký kraj

Pardubický kraj – práce s mapou

Vyber správné údaje (uved' všechny možnosti) a přiřad' je ke krajům:

Poloha: a) severovýchod Čech, b) západ Čech, c) sever Čech d) severozápad Čech

Povrch: a) Lužické hory, Jizerské hory, Krkonoše, Český ráj, Česká tabule

b) Krkonoše, Orlické hory, Polabská nížina, Český ráj, Prachovské skály

c) Orlické hory, Hrubý Jeseník, Žďárské vrchy, Železné hory, Polabská nížina

Řeky: a) Labe, b) Morava, c) Berounka, d) Svitava, e) Chrudimka, f) Tichá Orlice, g) Cidlina, h) Vltava

Vodní nádrže: a) Lipno, b) Rozkoš, c) Seč, d) Orlík, e) Dalešická přehrada

Zemědělství: a) pšenice, cukrovka a kukuřice, b) oves, brambory a len, c) pastevectví – skot, ovce, d) obiloviny, řepa a brambory, e) řepka olejka, f) chmel

Průmysl: a) textilní průmysl, b) oděvní průmysl, c) výroba klavírů, d) výroba perníku, e) chemický průmysl, f), tepelné elektrárny, g) výroba porcelánu

Města: a) Svitavy, b) Litomyšl, c) Semily, d) Náchod, e) Jičín, f) Chrudim, g) Kladno, ch) Česká Třebová, i) Ústí nad Orlicí, j) Rychnov nad Kněžnou

Zajímavosti: a) Sněžka, b) Klínovec, c) Teplicko-adršpašské skály, d) Králický Sněžník, e) Kunětická hora, f) hrad Kost, g) Babiččino údolí, h) Ještěd, ch) Prachovské skály, i) Chrudim – muzeum loutek

Královehradecký kraj:

Poloha _____

Povrch _____

Řeky _____

Vodní nádrže _____

Zemědělství _____

Průmysl _____

Města _____

Zajímavosti _____

Pardubický kraj

Poloha _____

Povrch _____

Řeky _____

Vodní nádrže _____

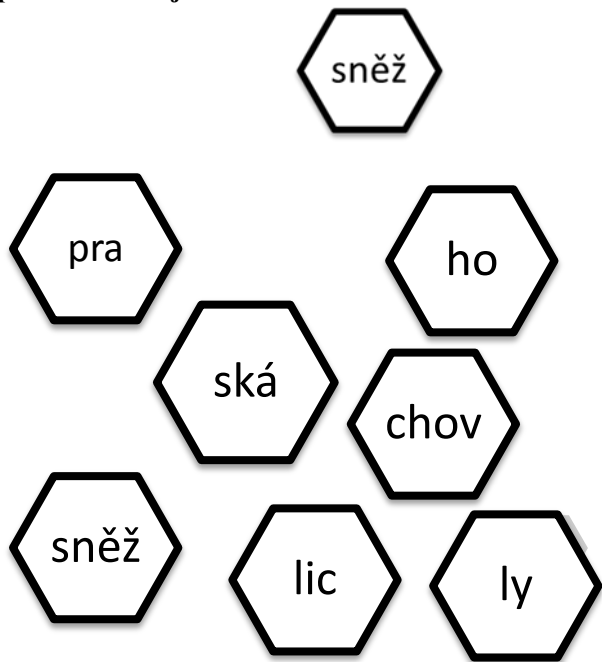
Zemědělství _____

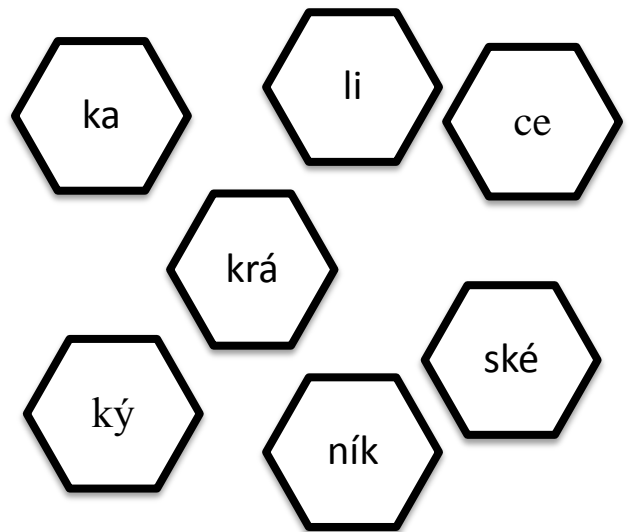
Průmysl _____

Města _____

Zajímavosti _____

Sestav ze slabik slova, připiš, co to je,
přiřaď ke krajům:





Na mapce vybarvi Královohradecký kraj a
Pardubický kraj.

Vyznač jejich krajská města a napiš jejich
jména.



Královehradecký kraj-řešení

Pardubický kraj – práce s mapou

Vyber správné údaje (uved' všechny možnosti) a přiřaď je ke krajům:

Poloha: a) severovýchod Čech, b) západ Čech, c) sever Čech d) severozápad Čech

Povrch: a) Lužické hory, Jizerské hory, Krkonoše, Český ráj, Česká tabule

b) Krkonoše, Orlické hory, Polabská nížina, Český ráj, Prachovské skály

c) Orlické hory, Hrubý Jeseník, Žďárské vrchy, Železné hory, Polabská nížina

Řeky: a) Labe, b) Morava, c) Berounka, d) Svitava, e) Chrudimka, f) Tichá Orlice, g) Cidlina, h) Vltava

Vodní nádrže: a) Lipno, b) Rozkoš, c) Seč, d) Orlík, e) Dalešická přehrada

Zemědělství: a) pšenice, cukrovka a kukuřice, b) oves, brambory a len, c) pastevectví – skot, ovce, d) obiloviny, řepa a brambory, e) řepka olejka, f) chmel

Průmysl: a) textilní průmysl, b) oděvní průmysl, c) výroba klavírů, d) výroba perníku, e) chemický průmysl, f) tepelné elektrárny, g) výroba porcelánu

Pardubický kraj

Poloha a)

Povrch b)

Řeky a), b), d), e), f)

Vodní nádrže c)

Města: a) Svitavy, b) Litomyšl, c) Semily, d) Náchod, e) Jičín, f) Chrudim, g) Kladno, ch) Česká Třebová, i) Ústí nad Orlicí, j) Rychnov nad Kněžnou

Zajímavosti: a) Sněžka, b) Klínovec, c) Teplicko-adršpašské skály, d) Králický Sněžník, e) Kunětická hora, f) hrad Kost, g) Babiččino údolí, h) Ještěd, ch) Prachovské skály, i) Chrudim – muzeum loutek

Královehradecký kraj:

Poloha a)

Povrch b)

Řeky a), g)

Vodní nádrže b)

Zemědělství a), b), c)

Průmysl a), c)

Města d), e), j)

Zajímavosti a), c), f), g), ch)

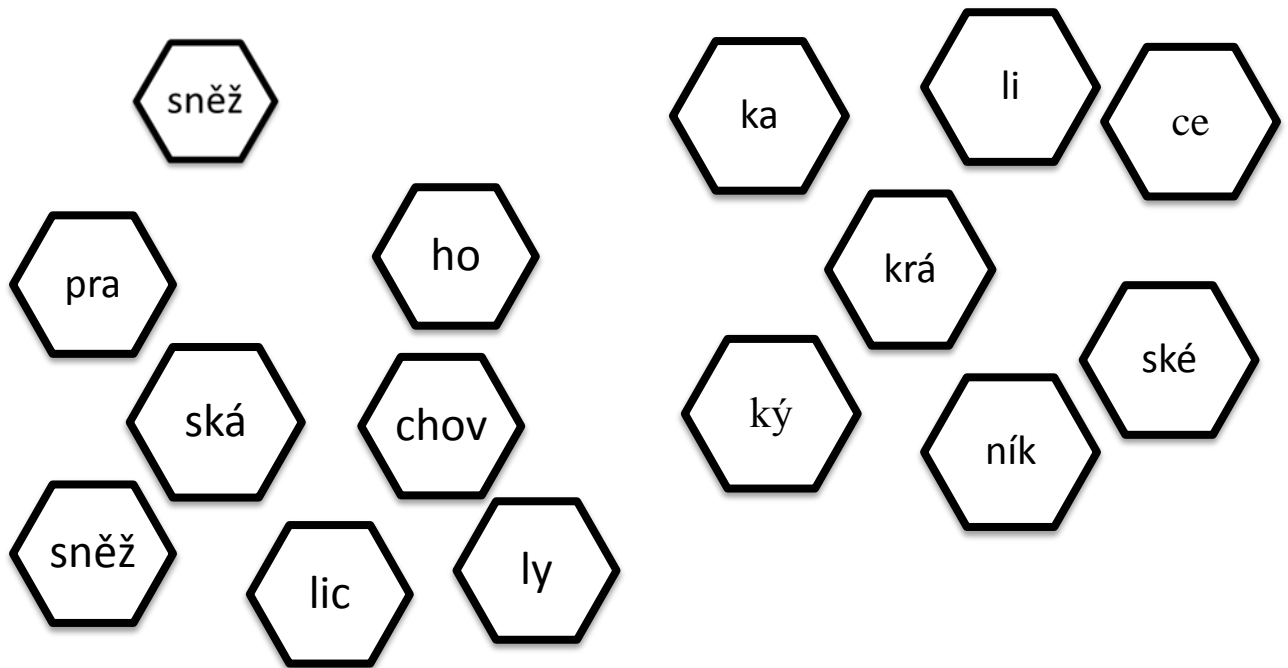
Zemědělství d), e)

Průmysl a), b), d), e), f)

Města a), b), f), ch), i)

Zajímavosti d), e), i)

Sestav ze slabik slova, připiš, co to je, přiřaď ke krajům:



Sněžka, hora, Královeshradecký kraj

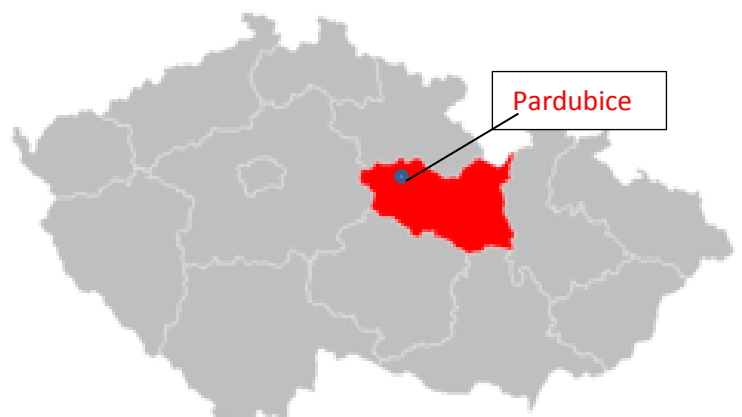
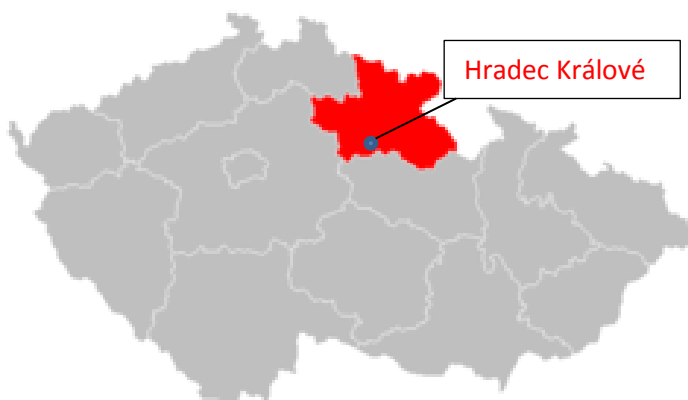
Prachovské skály, pískovcové útvary, Královeshradecký kraj

Králický Sněžník, hora, Pardubický kraj

Holice, muzeum Emila Holuba, Pardubický kraj

Na mapce vybarvi Královeshradecký kraj a Pardubický kraj

Vyznač jejich krajská města a napiš jejich jména



Metodický list

Název:	Pracovní list – Královehradecký kraj, Pardubický kraj – práce s mapou
Cíl:	Zábavnou formou procvičit učivo o krajích, nacvičení práce s mapou – vyhledávání údajů, orientace v mapě. Kraj Královehradecký, Pardubický kraj.
Motivace:	Zopakování základních znalostí mapy - barvy na mapě, značky na mapě, světové strany.
Potřeby a materiál:	Vytištěné pracovní listy, psací potřeby, pastelky.
Postup:	Pozorné čtení údajů o krajích. Vytřídění nesprávných údajů. Třídění údajů do krajů. (Na linky děti zapisují všechny možnosti – např. a), b)) Sestavení slov ze slabik, připsání, zda je to město, hrad apod. Přidělení ke krajům. Vybarvení správných krajů na mapce, vyznačení krajských měst.
Reflexe:	Čtení s porozuměním. Aplikace znalostí, třídění údajů. Sestavení slov, hledání řešení. Přemýšlení nad problémem.

Zdroje:

Mapka Praha: http://cs.wikipedia.org/wiki/Soubor:2004_Praha.png, Creative Commons CC0 1.0 Universal Public Domain Dedication [cit. 5.5. 2013]

Mapka Královehr. kraje: http://cs.wikipedia.org/wiki/Soubor:2004_Kralovehradecky_kraj.PNG. Tento soubor pochází z Wikimedia Commons. [cit. 5.5.2013]

Mapka Pardubického kraje: http://cs.wikipedia.org/wiki/Soubor:2004_Pardubicky_kraj.PNG. Tento soubor pochází z Wikimedia Commons. [cit. 5.5.2013]

CHALUPA, Petr; ŠTIKOVÁ, Věra. Vlastivěda5. Brno: NOVÁ ŠKOLA, 2004, ISBN 80-7289-059-X. [cit. 5.5. 2013]

Autorem materiálu a všech jeho částí, není-li uvedeno jinak, je Mgr. Věra Waldsteinová.