



evropský
sociální
fond v ČR



EVROPSKÁ UNIE



MINISTERSTVO ŠKOLSTVÍ,
MLÁDEŽE A TĚLOVÝCHOVY



OP Vzdělávání
pro konkurenceschopnost

INVESTICE DO ROZVOJE VZDĚLÁVÁNÍ

Výukový materiál zpracován v rámci projektu EU peníze školám


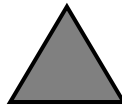
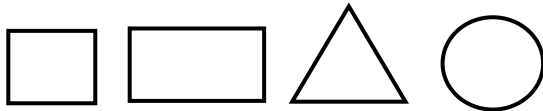
Registrační číslo projektu: CZ.1.07/1.4.00/21.2242

| | |
|---------------|---------------------------------|
| Šablona III/2 | č. materiálu: VY_32_INOVACE_480 |
|---------------|---------------------------------|

| | |
|-----------------|-------------------|
| jméno autora | Mgr. Dana Zemková |
| škola | ZŠ Bystřice |
| třída | 1.A |
| datum vytvoření | 12.2.2012 |

| | |
|-----------------------------------------|--------------------------------------------------------------------------------------------------------------------------------------------|
| Vzdělávací oblast | Matematika a její aplikace |
| Předmět | Matematika |
| Popis způsobu využití, metodické pokyny | Žáci počítají geometrické tvary, sčítají a odčítají do 20, kreslí stejný počet * a menší počet O, řeší slovní úlohu na odčítání a sčítání. |
| Klíčová slova | Závěrečná písemná práce |
| Druh učebního materiálu | Pracovní list |

6. Napiš, kolik je



- | | | | | |
|----|------------|---------------|------------|------------------|
| 7. | $12 + 3 =$ | $9 + 1 + 3 =$ | $15 - 5 =$ | $20 - 10 - 10 =$ |
| | $15 + 4 =$ | $8 + 2 + 4 =$ | $16 - 4 =$ | $18 - 0 - 5 =$ |
| | $11 + 5 =$ | $7 + 3 + 1 =$ | $17 - 3 =$ | $16 - 2 - 4 =$ |
| | $18 + 2 =$ | $6 + 4 + 2 =$ | $19 - 4 =$ | $14 - 2 - 1 =$ |

8. Nakresli stejně *
jako je na horním řádku

Nakresli o 3 O méně
než je na horním řádku

OOOOOOOOOOOOOOOO

9. Maminka upekla 18 koláčů. Děti snědly 6 koláčů. Kolik koláčů zbylo?

10. V koši spí 10 kočiček. Kolem koše je 5 kočiček. Kolik kočiček je celkem?
